

二年级数学下册第三单元过关检测卷一

一、下面哪些是轴对称图形？是的在下面画“√”，不是的画“×”。

(9分)



()



()



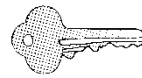
()



()



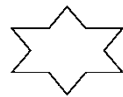
()



()



()



()




()


二、下列现象是平移的画“○”，是旋转的画“□”。(12分)



滑雪()




小风车()



滑滑梯()



拧螺丝()



舞厅旋转灯 ()



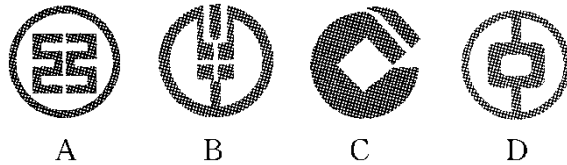
光盘架从电脑中
弹出 ()

三、判断。(对的画“√”，错的画“×”)(每题2分，共10分)

1. 熟透的苹果从树上掉下来是平移。 ()
2. 一张纸对折后剪出的图形一定是轴对称图形。 ()
3. 字母N是轴对称图形。 ()
4. 小朋友玩荡秋千是旋转现象。 ()
5. 旋转之后图形的形状发生了改变。 ()

四、选一选。(每题2分，共10分)

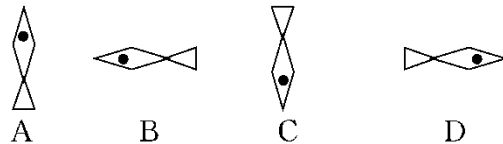
1. 下列四个银行的商标图案中，不是轴对称图形的是()。



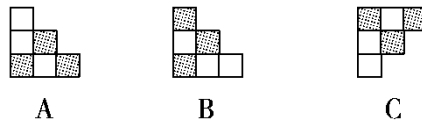
2. 下列图形在镜子中没有变化的是()。



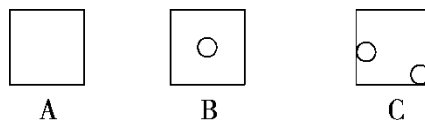
3. 图形可以由下面的图形()平移得到。



4. 图形可以由下面的图形()旋转得到。



5. 下面的图形沿着一条直线折叠后不能完全重合的是()。



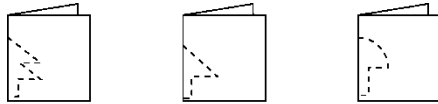
五、把通过平移能得到的图形连起来。(8分)



六、下面哪幅图是由图①旋转得到的？圈出来。(4分)



七、下面的图形分别是哪张纸上剪下来的？(连一连)(6分)




八、写出分针从12旋转到下面各个位置所经过的时间。(6分)

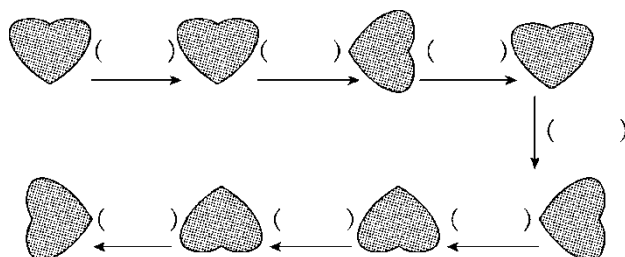


九、下面的图形和汉字都是轴对称图形，你能猜出它们分别是什么吗？

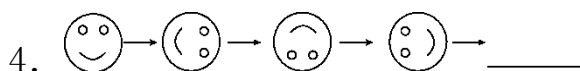
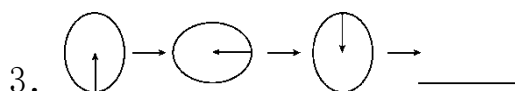
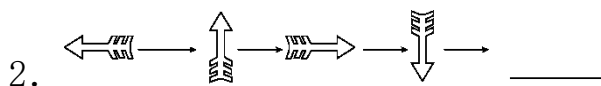
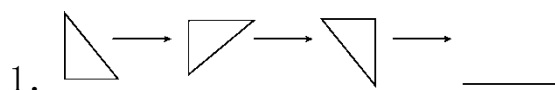
在()里写出来。(12分)



十、观察下图，在()里填上“平移”或“旋转”。(7分)




十一、按照图中的规律画一画。(每题2分，共8分)



十二、按要求填一填。(1题2分，2题6分，共8分)

1. 通过平移相互重合的图形有()。

2. 通过旋转相互重合的图形()。



扫码看答案：2434